

Γ ΔΗΜΟΤΙΚΟ ΣΧΟΛΕΙΟ ΠΑΛΟΥΡΙΩΤΙΣΣΑΣ
ΕΠΑΝΑΛΗΨΗ ΣΤΑ ΜΑΘΗΜΑΤΙΚΑ

ΜΟΤΙΒΑ ΠΟΛΛΑΠΛΑΣΙΑΣΜΟΥ

Όνομα: _____ Τάξη: _____



1) Λύσε τις πιο κάτω εξισώσεις:

$4 \times 5 =$

$9 \times 5 =$

$2 \times 5 =$

$10 \times 10 =$

$2 \times 4 =$

$2 \times 3 =$

$5 \times 6 =$

$2 \times 2 =$

$7 \times 6 =$

$7 \times 4 =$

$8 \times 5 =$

$7 \times 5 =$

$5 \times 5 =$

$4 \times 6 =$

$3 \times 4 =$

$10 \times 6 =$

$9 \times 6 =$

$8 \times 4 =$

$7 \times 3 =$

$9 \times 3 =$

$8 \times 3 =$

$90 : 10 =$

$60 : 6 =$

$30 : 5 =$

$42 : 6 =$

$4 \times 10 =$

$20 : 4 =$

$36 : 6 =$

$50 : 5 =$

$12 : 2 =$

$24 : 4 =$

$48 : 6 =$

$28 : 4 =$

$35 : 5 =$

$18 : 6 =$

$45 : 5 =$

$32 : 4 =$

$36 : 4 =$

$100 : 10 =$

$6 \times 6 =$

$9 \times 4 =$

$30 : 10 =$

2) Ποιους αριθμούς σκέφτομαι;

Το άθροισμά τους είναι 13

Το γινόμενο τους είναι 42

3) Λύσε τα πιο κάτω προβλήματα:

(α) Ο παππούς αγόρασε για τα 9 εγγόνια του από έναν κουμπάρα. Ο κάθε κουμπάρας στοίχιζε €5. Πόσα πλήρωσε;

Εξίσωση: _____

Απάντηση: _____

(β) Τα 42 βιβλία της βιβλιοθήκης της τάξης μας, θα τοποθετηθούν σε 6 ράφια. Όλα τα ράφια θα έχουν τον ίδιο αριθμό βιβλίων. Πόσα βιβλία θα μπουν σε κάθε ράφι;

Εξίσωση: _____

Απάντηση: _____

(γ) Μια οικογένεια με 4 παιδιά επισκέφθηκε τον ζωολογικό κήπο. Το εισιτήριο για τους ενήλικες ήταν €6, ενώ το εισιτήριο για τα παιδιά ήταν €3. Πόσα στοίχισε στην οικογένεια η είσοδος στον ζωολογικό κήπο;

Εξίσωση: _____

Απάντηση: _____

(δ) Ο παπαγάλος μου ζυγίζει 4 κιλά. Ο σκύλος μου ζυγίζει εξαγιάσια από ότι ο παπαγάλος. Πόσο ζυγίζουν και τα δύο ζώα μαζί;



Εξίσωση: _____

Απάντηση: _____

(ε) Από τα 24 παιδιά μιας τάξης, το $\frac{1}{3}$ φορεί γυαλιά. Πόσα παιδιά φορούν γυαλιά;

Εξίσωση: _____

Απάντηση: _____

(στ) Ο φούρνος της γειτονιάς μου θέλει να βάλει σε δισκάκια 16 τυροπιτάκια. Σε κάθε δίσκο θα βάλει 5 τυροπιτάκια.

➤ Πόσοι δίσκοι θα γεμίσουν; _____

➤ Πόσα τυροπιτάκια θα περισσέψουν; _____

4) Να γράψεις την εξίσωση που χρειάζεται και μετά να συμπληρώσεις την απάντηση στο κουτάκι:

A) Το $\frac{1}{4}$ του 24 είναι το

B) Το $\frac{1}{2}$ του 50 είναι το

Γ) Το $\frac{1}{5}$ του 35 είναι το

Δ) Το $\frac{1}{6}$ του 18 είναι το



5. Να συμπληρώσεις τις απαντήσεις στα κουτάκια :

Ο κύριος Γιώργος έχει στη φάρμα του 24 ζώα.

Το $\frac{1}{6}$ είναι γουρουνάκια

Το $\frac{1}{4}$ είναι αγελάδες

Το $\frac{1}{2}$ είναι γαϊδουράκια



6) Συμπλήρωσε τα μοτίβα:


4, 6, 8, _____, _____, _____, _____, _____.

3, 6, 9, _____, _____, _____, _____, _____.

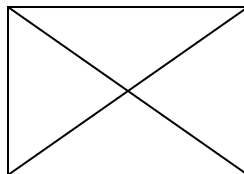
12, 18, 24, _____, _____, _____, _____, _____.

37, 41, 45, _____, _____, _____, _____, _____.

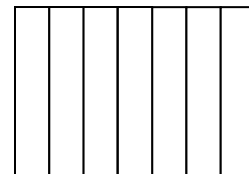
7) Χρωματίζω το μέρος του σχήματος που λέει κάθε κλάσμα:



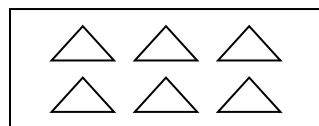
$\frac{1}{5}$



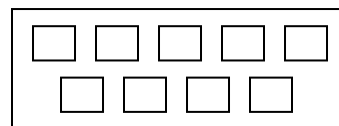
$\frac{1}{4}$



$\frac{1}{7}$



$\frac{1}{6}$



$\frac{1}{9}$